

Soluzione esercizi

25 novembre 2011

8.1. Esercizio. *Determinare massimo e minimo delle seguenti funzioni nei corrispondenti intervalli:*

$$2x^4 - x \text{ in } [0, 1]; \quad e^{-x^2} \text{ in } [-2, 2]$$

$$\cos|x| - |\cos x| \text{ in } [-2\pi, 2\pi]; \quad \cos x + |\sin x| \text{ in } [-\pi/2, \pi/2]$$

SOLUZIONE:

Ogni funzione continua in un intervallo chiuso e limitato $[a, b]$ ammette massimo e minimo: esistono cioè punti x_m, x_M appartenenti all'intervallo tali che

$$\forall x \in [a, b] : \text{minimo} = f(x_m) \leq f(x) \leq f(x_M) = \text{massimo}$$

I punti x_m, x_M vanno cercati:

- agli estremi dell'intervallo,
- nei punti interni all'intervallo in cui riesce $f'(x) = 0$,
- nei punti dell'intervallo in cui la funzione non é derivabile.

$f(x) = 2x^4 - x, \quad x \in [0, 1]$

- $f(0) = 0, f(1) = 0$
- $f'(x) = 8x^3 - 1 = 0 \rightarrow x = \frac{1}{2}, f(1/2) = -1/4$
- non ci sono punti in cui la funzione non é derivabile.

$$\text{minimo} = f(1/2) = -3/8, \quad \text{massimo} = f(0) = 0$$

$f(x) = e^{-x^2}, \quad x \in [-2, 2]$

- $f(-2) = f(2) = e^{-4}$
- $f'(x) = -2xe^{-x^2} = 0 \rightarrow x = 0, f(0) = 1$
- non ci sono punti in cui la funzione non é derivabile.

$$\text{minimo} = f(2) = e^{-4}, \quad \text{massimo} = f(0) = 1$$

$f(x) = \cos|x| - |\cos x|, \quad x \in [-2\pi, 2\pi]$

- $f(-2\pi) = 0, f(2\pi) = 0$

- $x \in [0, 2\pi] \rightarrow$

$$\rightarrow f(x) = \cos(x) - |\cos(x)| = \begin{cases} 2 \cos(x) & x \in [\pi/2, 3\pi/2] \\ 0 & \text{altrove} \end{cases}$$

$$f'(x) = \begin{cases} -2 \sin(x) & x \in [\pi/2, 3\pi/2] \\ 0 & \text{altrove} \end{cases} \rightarrow f'(x) = 0 \quad x = \pi$$

- $\text{minimo} = f(\pi) = -2, \quad \text{massimo} = f(0) = 0$

$$\boxed{f(x) = \cos(x) + |\sin x|, \quad x \in [-\pi/2, \pi/2]}$$

- $f(\pi/2) = 1, \quad f(\pi/2) = 1$

-

$$f'(x) = \begin{cases} -\sin(x) - \cos(x) & x \in [-\pi/2, 0] \\ -\sin(x) + \cos(x) & x \in [0, \pi/2] \end{cases}$$

$$\rightarrow \rightarrow f'(x) = 0 \rightarrow x = \pm\pi/4, \quad f(\pm\pi/4) = \sqrt{2}$$

- $\text{minimo} = f(\pi/2) = 1, \quad \text{massimo} = f(\pm\pi/4) = \sqrt{2}$

8.2. Esercizio.

Calcolare gli eventuali estremo superiore, estremo inferiore, massimo e minimo delle seguenti funzioni, nell'intervallo indicato:

$$2 - e^{-x} \text{ in } [0, +\infty); \quad \log(1 + x^2) \text{ in } \mathbb{R};$$

$$\cos(x^2) \text{ in } \mathbb{R}; \quad \frac{1}{1 + x^2 + x^6} \text{ in } [0, +\infty)$$

SOLUZIONE:

$$\boxed{2 - e^{-x} \quad x \in [0, +\infty)}$$

$$\text{massimo} = f(0) = 3, \quad \text{inf.} = 2 = \lim_{x \rightarrow +\infty} f(x)$$

$$\boxed{\log(1 + x^2), \quad x \in \mathbb{R}}$$

$$\text{minimo} = 0 = f(0), \quad \text{sup} = +\infty = \lim_{x \rightarrow \pm\infty} f(x)$$

$$\boxed{\cos(x^2) \quad x \in \mathbb{R}}$$

$$\text{minimo} = -1 = f(\sqrt{\pi}), \quad \text{massimo} = 1 = f(0)$$

$$\boxed{\frac{1}{1 + x^2 + x^6} \quad x \in [0, +\infty)}$$

$$\text{inf.} = 0 = \lim_{x \rightarrow +\infty} f(x), \quad \text{massimo} = 1 = f(0)$$

8.3. Esercizio. Determinare per quali valori dei parametri a, b, c la funzione

$$f(x) = \begin{cases} x^2 + bx + c, & x < 0 \\ a & x = 0 \\ \frac{2}{\pi} \operatorname{arctg} \frac{1}{x}, & x > 0, \end{cases}$$

risulta essere derivabile in tutto l'asse reale. In corrispondenza di questi valori, determinare il massimo e il minimo di f nell'intervallo $[-1, \sqrt{3}]$.

SOLUZIONE:

Per essere continua deve riuscire:

$$\lim_{x \rightarrow 0^-} f(x) = c = f(0) = a = \lim_{x \rightarrow 0^+} f(x) = 1$$

da cui

$$a = c = 1$$

Per essere anche derivabile occorre che

$$\lim_{h \rightarrow 0^-} \frac{h^2 + bh + 1 - 1}{h} = b = \frac{2}{\pi} \lim_{h \rightarrow 0^+} \frac{\frac{2}{\pi} \arctan\left(\frac{1}{h}\right) - 1}{h} = -\frac{2}{\pi}$$

da cui

$$b = -\frac{2}{\pi}$$

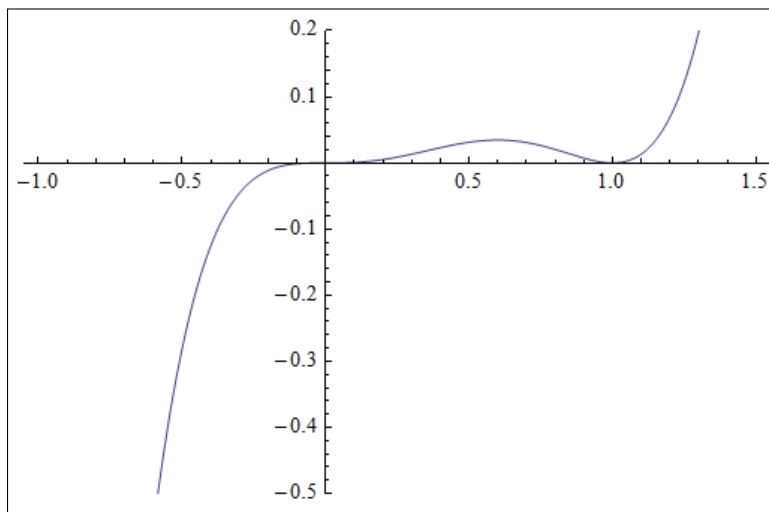
8.4. Esercizio. Studiare la convessità delle seguenti funzioni, nell'insieme nel quale sono definite, determinando gli eventuali punti di flesso

$$x^3(x-1)^2; \quad (|x|-1)^2; \quad x^2(4-2\log x).$$

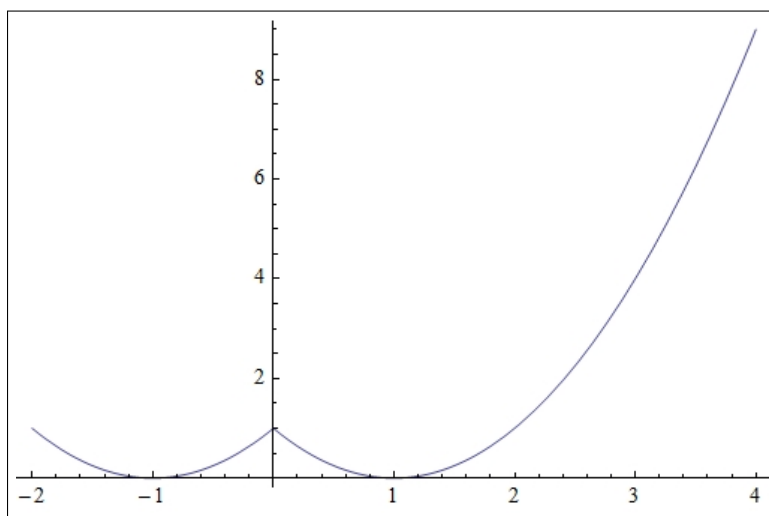
SOLUZIONE:

$$f(x) = x^3(x-1)^2$$

$$f''(x) = 2x(10x^2 - 12x + 3), \quad f''(x) = 0 \quad \rightarrow \quad \begin{cases} x_1 = 0 \\ x_2 = \frac{6 - \sqrt{6}}{10} \\ x_3 = \frac{6 + \sqrt{6}}{10} \end{cases}$$

FIGURA 1. $x^3(x-1)^2$

La funzione é quindi convessa per $x \in [x_1, x_2]$ e per $x_3 \leq x$.
I punti x_1, x_2, x_3 sono punti di flesso.

FIGURA 2. $(|x| - 1)^2$

$$g(x) = (|x| - 1)^2$$

La funzione $g(x) = x^2 - 2|x| + 1$ non é derivabile in $x = 0$: a sinistra e a destra di zero coincide con due parabole convesse: é quindi convessa in $(-\infty, 0)$ e in $(0, +\infty)$. Il grafico, vedi figura 2, fa capire bene cosa succede in $x = 0$.

$$u(x) = x^2(4 - 2 \log(x))$$

$$u''(x) = 2 - 4 \log(x) : u''(x) = 0 \rightarrow x = \sqrt{e}$$

Pertanto la funzione é convessa per $x \in (0, \sqrt{e})$.

Il punto \sqrt{e} é punto di flesso.

8.5. Esercizio.

- Determinare il numero di soluzioni dell'equazione

$$\arctan(x) = x^3 + x$$

(Suggerimento: studiare la funzione $f(x) = \arctan(x) - x^3 - x$).

- Dimostrare che

$$\log x \leq x - 1 \quad \forall x \in (0, +\infty).$$

SOLUZIONE:

$$\arctan(x) = x^3 + x$$

La funzione $f(x) = \arctan(x) - x^3 - x$ ha derivata

$$f'(x) = \frac{1}{1+x^2} - 1 - 3x^2 < 0, \quad \forall x \neq 0$$

Quindi $f(x)$ é strettamente decrescente.

Tenuto conto che

$$\lim_{x \rightarrow -\infty} f(x) = +\infty, \quad \lim_{x \rightarrow +\infty} f(x) = -\infty$$

l'equazione $f(x) = 0$, ovvero $\arctan(x) = x^3 + x$, ha una e una sola radice che é, evidentemente $x = 0$

$$\log(x) \leq x - 1 \quad \forall x \in (0, +\infty)$$

Posto

$$g(x) = \log(x) - x + 1$$

riesce

$$g'(x) = \frac{1}{x} - 1 \rightarrow \begin{cases} g'(x) > 0 & x \in (0, 1) \\ g'(x) < 0 & x > 1 \end{cases}$$

$g(x)$ é quindi crescente per $x \in (0, 1)$ e decrescente per $x > 1$, e quindi raggiunge in $x = 1$ il valore massimo

$$\forall x \in (0, +\infty) : g(x) \leq g(1) = 0 \rightarrow \log(x) \leq x - 1$$

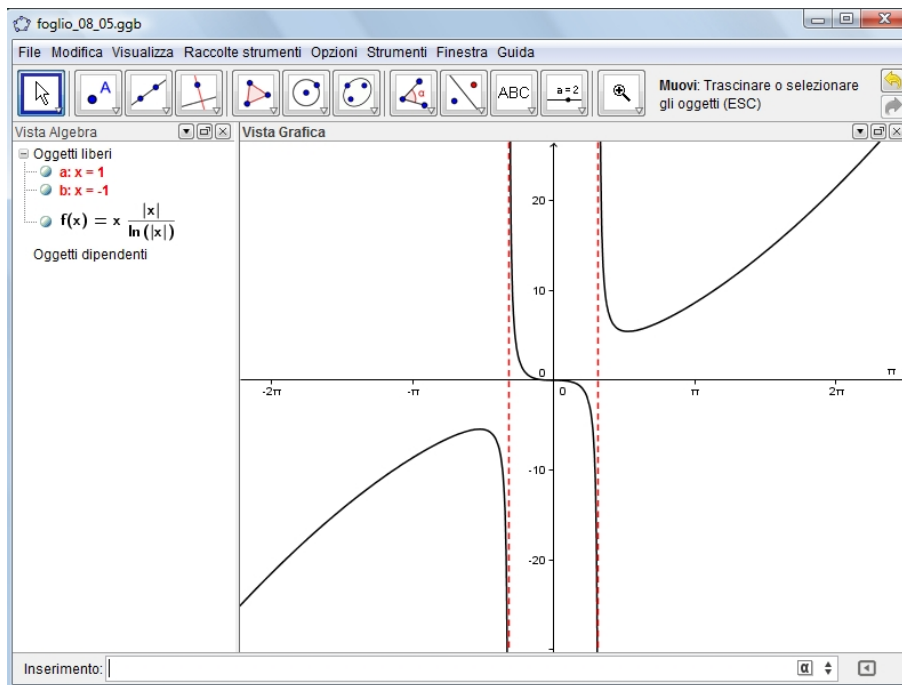


FIGURA 3. $f(x) = \frac{x|x|}{\log(|x|)}$

8.6. Esercizio. *Determinare l'insieme di definizione, insieme di continuità, limiti, asintoti, insieme di derivabilità, intervalli di crescita e decrescenza, intervalli di concavità e convessità della funzione*

$$f(x) = \frac{x|x|}{\log|x|}$$

e disegnarne il grafico.

SOLUZIONE:

- Insieme di definizione $x \neq 0, x \neq \pm 1$,
- la funzione é prolungabile per continuità in $x = 0$ attribuendole il valore 0 del limite

$$\lim_{x \rightarrow 0} \frac{x|x|}{\log(|x|)} = 0$$

In $x = \pm 1$ si hanno due asintoti verticali,

- la funzione é derivabile in tutti gli $x \neq \pm 1$

$$f(x) = \begin{cases} \frac{x^2}{\log(x)} & x > 0 \rightarrow f'(x) = \frac{x(-1 + 2 \log(x))}{\log^2(x)} \\ \frac{-x^2}{\log(-x)} & x < 0 \rightarrow f'(x) = \frac{x(1 - 2 \log(-x))}{\log^2(-x)} \end{cases}$$

quindi $f(x)$ é crescente per $x \leq -\sqrt{e}$ e per $x \geq \sqrt{e}$: é decrescente negli altri intervalli.

-

$$\lim_{x \rightarrow -\infty} f(x) = -\infty, \quad \lim_{x \rightarrow -1^-} f(x) = -\infty, \quad \lim_{x \rightarrow -1^+} f(x) = +\infty,$$

$$\lim_{x \rightarrow 1^-} f(x) = -\infty, \quad \lim_{x \rightarrow 1^+} f(x) = +\infty, \quad \lim_{x \rightarrow +\infty} f(x) = +\infty$$

8.7. Esercizio. Determinare i polinomi di Taylor $T_m(x)$ relativi alla funzione $F(x) = \sqrt{1+x}$ nel punto $x_0 = 0$, di ordini $m = 1, 2, 3$.

SOLUZIONE:

$$F(x) = \sqrt{1+x} \rightarrow F(x) = (1+x)^{1/2} \rightarrow F'(x) = \frac{1}{2}(1+x)^{1/2-1} \rightarrow$$

$$F''(x) = \frac{1}{2} \left(\frac{1}{2} - 1 \right) (1+x)^{1/2-2}, \quad F'''(x) = \frac{1}{2} \left(\frac{1}{2} - 1 \right) \left(\frac{1}{2} - 2 \right) (1+x)^{1/2-3}$$

Calcolando funzione e derivate nel punto $x_0 = 0$ si ottiene

$$F(0) = 1, \quad F'(0) = \frac{1}{2}, \quad F''(0) = \frac{1}{2} \left(\frac{1}{2} - 1 \right), \quad F'''(0) = \frac{1}{2} \left(\frac{1}{2} - 1 \right) \left(\frac{1}{2} - 2 \right), \dots$$

espressioni che si generalizzano (credibilmente) nella notazione dei coefficienti binomiali

$$\frac{F^{[k]}(0)}{k!} = \frac{1}{k!} \prod_{h=0}^{k-1} \left(\frac{1}{2} - h \right) = \binom{1/2}{k}$$

Si ha pertanto la notevole espressione per i polinomi di Taylor di $F(x) = \sqrt{1+x}$ con $x_0 = 0$ seguente

$$T_m(x) = \sum_{k=0}^m \binom{1/2}{k} x^k$$

Pertanto

$$T_1(x) = 1 + \frac{1}{2}x, \quad T_2(x) = 1 + \frac{1}{2}x - \frac{1}{8}x^2, \quad T_3(x) = 1 + \frac{1}{2}x - \frac{1}{8}x^2 + \frac{1}{16}x^3$$

Osservazione 8.1. Si noti che quanto osservato per $(1+x)^{1/2}$ si ritrova del tutto analogamente per ogni altra potenza così da avere per i polinomi di $(1+x)^\alpha$ le espressioni

$$T_m(x) = \sum_{k=0}^m \binom{\alpha}{k} x^k$$

Nel caso che l'esponente α sia un numero naturale n si ritrova lo sviluppo noto come binomio di Newton, tenuto conto che i coefficienti binomiali se $\alpha = n \in \mathbb{N}$ sono tutti nulli per $k > n$

8.8. Esercizio. Sia $f(x) = \sin x + \cos x$. Calcolare $f(1/2)$ con un errore minore di 10^{-3} .

SOLUZIONE:

Ricordati i polinomi di Taylor per $\sin(x)$ e per $\cos(x)$, per esempio per l'ordine $n = 5$

$$\sin(x) = x - \frac{x^3}{3!} + \frac{x^5}{5!} + \frac{x^6}{6!} \sin^{[6]}(\xi), \quad \cos(x) = 1 - \frac{1}{2!}x^2 + \frac{1}{4!}x^4 + \frac{x^6}{6!} \cos^{[6]}(\eta)$$

Ne segue quindi sommando e tenendo conto che $|\sin^{[6]}(\xi)| \leq 1$, $|\cos^{[6]}(\eta)| \leq 1$

$$\left| \sin(x) + \cos(x) - \left\{ x - \frac{x^3}{3!} + \frac{x^5}{5!} \right\} - \left\{ 1 - \frac{1}{2!}x^2 + \frac{1}{4!}x^4 \right\} \right| \leq 2 \frac{|x|^6}{6!}$$

Nel punto $x = 1/2$ si ha pertanto, indicato con $P(x)$ la somma dei due polinomi per $\sin(x)$ e per $\cos(x)$ si ha

$$|f(1/2) - P(1/2)| \leq 2 \frac{|1/2|^6}{6!} = \frac{1}{23040} < 10^{-3}$$

8.9. Esercizio. Assegnata la funzione

$$f(x) = \sin x - x \cos x - \frac{x^3}{3}$$

- si determini il suo ordine di infinitesimo in $x_0 = 0$,
- si determini il suo polinomio di Taylor $T_5(x)$ relativo a $x_0 = 0$ e ordine $m = 5$
- si esamini se in $x_0 = 0$ la funzione abbia un minimo o un massimo relativo.

SOLUZIONE:

Consideriamo i polinomi di Taylor corrispondenti a $f(x)$

$$\sin(x) \mapsto x - \frac{1}{3!}x^3 + \frac{1}{5!}x^5$$

$$\cos(x) \mapsto 1 - \frac{1}{2!}x^2 + \frac{1}{4!}x^4$$

$$x \cos(x) \mapsto x - \frac{1}{2!}x^3 + \frac{1}{4!}x^5$$

Da cui segue

$$f(x) = x - \frac{1}{3!}x^3 + \frac{1}{5!}x^5 - \left\{ x - \frac{1}{2!}x^3 + \frac{1}{4!}x^5 \right\} - \frac{x^3}{3} + o(x^6)$$

Ovvero svolti i calcoli

$$f(x) = -\frac{1}{30}x^5 + o(x^6)$$

si riconosce che $f(x)$ é un infinitesimo per $x \rightarrow 0$ di ordine $n = 5$.

Il polinomio di Taylor di punto iniziale $x_0 = 0$ e ordine 5 é (quindi)

$$T_5(x) = -\frac{1}{30}x^5$$

Il carattere dispari della prima derivata diversa da zero,

$$f^{[5]}(0) = -\frac{1}{30}$$

indica che in $x_0 = 0$ la funzione f non ha né minimo né massimo relativi

8.10. Esercizio.

Sia $f(x) = \log(1 + x^2)$, determinare

- la retta tangente al grafico nel punto $P = (1, f(1))$,
- i polinomi di Taylor $T_1(x)$ e $T_2(x)$ relativi a $x_0 = 0$
- il massimo del modulo $|f(x) - T_1(x)|$, $x \in [0, 2]$.

SOLUZIONE:

La retta tangente al grafico di una funzione $f(x)$ derivabile in x_0 ha l'equazione

$$y = f'(x_0)(x - x_0) + f(x_0) \quad \rightarrow \quad y = x - 1 + \log(2)$$

Tenuto conto che

$$f(0) = 0, f'(0) = 0, f''(0) = 1$$

si ha

$$T_1(x) = 0, \quad T_2(x) = \frac{1}{2}x^2$$

10

Il polinomio esprime la retta tangente nell'origine, l'asse x stesso,

$$|f(x) - T_1(x)| = \log(1 + x^2) \leq \log(5)$$