

CORSO DI LAUREA IN FISICA, FISICA E ASTROFISICA
PROVA IN ITINERE - 7/12/2011

2.1. Esercizio.

Data la funzione

$$f(x) = \frac{\sqrt{x^2 - 6x + 9}}{x^2 - 6x + 10}$$

- determinare l'insieme di definizione e gli eventuali asintoti,
- determinare gli intervalli di crescita e/o decrescenza e gli eventuali punti di massimo e/o minimo,
- disegnare il grafico.

SOLUZIONE:

Tenuto conto che $x^2 - 6x + 9 = (x - 3)^2$ si ha

$$f(x) = \frac{\sqrt{x^2 - 6x + 9}}{x^2 - 6x + 10} = \frac{|x - 3|}{|x - 3|^2 + 1}$$

Il denominatore non si annulla mai, quindi la funzione é definita in tutto \mathbb{R} .

Inoltre riesce $f(x) \geq 0$.

$$\lim_{x \rightarrow \pm\infty} \frac{|x - 3|}{|x - 3|^2 + 1} = 0$$

La funzione é simmetrica rispetto ad $x = 3$, cioè $f(3 + h) = f(3 - h)$: basta pertanto determinarne il grafico per $x \geq 3$

$$f(x) = \frac{x - 3}{(x - 3)^2 + 1} \quad \rightarrow \quad f'(x) = \frac{1 - (x - 3)^2}{((x - 3)^2 + 1)^2}$$

Da cui, limitatamente alla semiretta $x > 3$, $f'(x)$ é positiva in $(3, 4)$ e negativa dopo: quindi $f(x)$ é crescente in $(3, 4)$ e decrescente dopo.

Tenuto presente che

$$f(3) = 0, \quad f(4) = 1/2, \quad \lim_{x \rightarrow +\infty} f(x) = 0$$

si riconosce, vedi figura 1, che

$$\text{minimo} = 0 = f(3), \quad \text{massimo} = f(4) = \frac{1}{2}$$

Nel punto $x = 3$ la funzione non é derivabile.

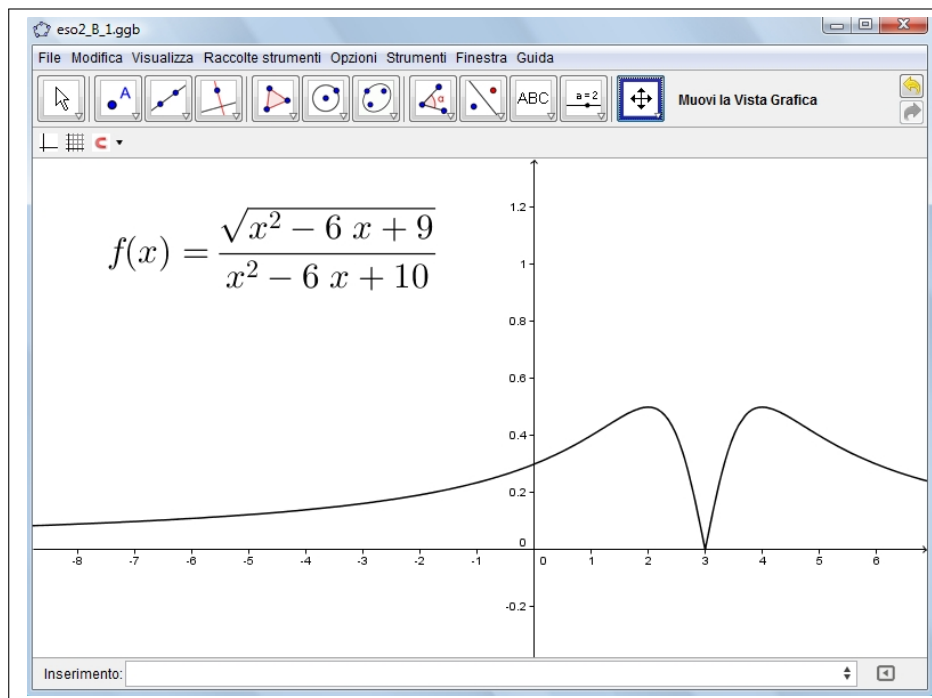


FIGURA 1. $f(x) = \frac{\sqrt{x^2 - 6x + 9}}{x^2 - 6x + 10}$

Osservazione 2.1. Che la funzione

$$f(x) = \frac{\sqrt{x^2 + 2kx + k^2}}{x^2 + 2kx + k^2 + 1} = \frac{|x + k|}{|x + k|^2 + 1}$$

abbia, qualunque sia $k \in \mathbb{R}$ minimo 0 e massimo $1/2$ era del resto ovvio:

$$2|a| \leq a^2 + 1 \quad \rightarrow \quad \frac{|x + k|}{|x + k|^2 + 1} \leq \frac{1}{2}$$

e quindi

$$f(-a) = 0 \leq f(x) \leq \frac{1}{2} = f(1 - a)$$

2.2. Esercizio.

- Determinare per quali $x \in \mathbb{R}$ la serie $\sum_{k=0}^{\infty} \frac{3k+2}{2k+1} x^k$ é assolutamente convergente e per quali $x \in \mathbb{R}$ é convergente.
- Determinare per quali $x \in \mathbb{R}$ la serie $\sum_{k=2}^{\infty} (2-x)^k$ é convergente e determinarne la somma.

SOLUZIONE:

Dal criterio del rapporto segue che la serie $\sum_{k=0}^{\infty} \frac{3k+2}{2k+1} x^k$ é assolutamente convergente se

$$\lim_{k \rightarrow \infty} \frac{\left| \frac{3k+2}{2k+1} x^k \right|}{\left| \frac{3(k-1)+2}{2(k-1)+1} x^{k-1} \right|} = |x| < 1$$

Agli estremi $x = \pm 1$ la serie non é convergente perché il termine generale non riesce per tali valori infinitesimo.

La serie geometrica $\sum_{k=2}^{\infty} (2-x)^k$ é convergente per

$$|2-x| < 1 \quad \rightarrow \quad 1 < x < 3$$

La somma vale

$$S = (2-x)^2 \frac{1}{1-(2-x)} = \frac{(x-2)^2}{x-1}$$

2.3. Esercizio.

Assegnata la funzione $f(x) = \log(1+3x)$

- calcolare i polinomi di Taylor $T_1(x)$ e $T_2(x)$ di punto iniziale $x_0 = 0$ e ordini 1 e 2,
- provare che riesce $\forall x \geq 0 : T_2(x) \leq f(x) \leq T_1(x)$.

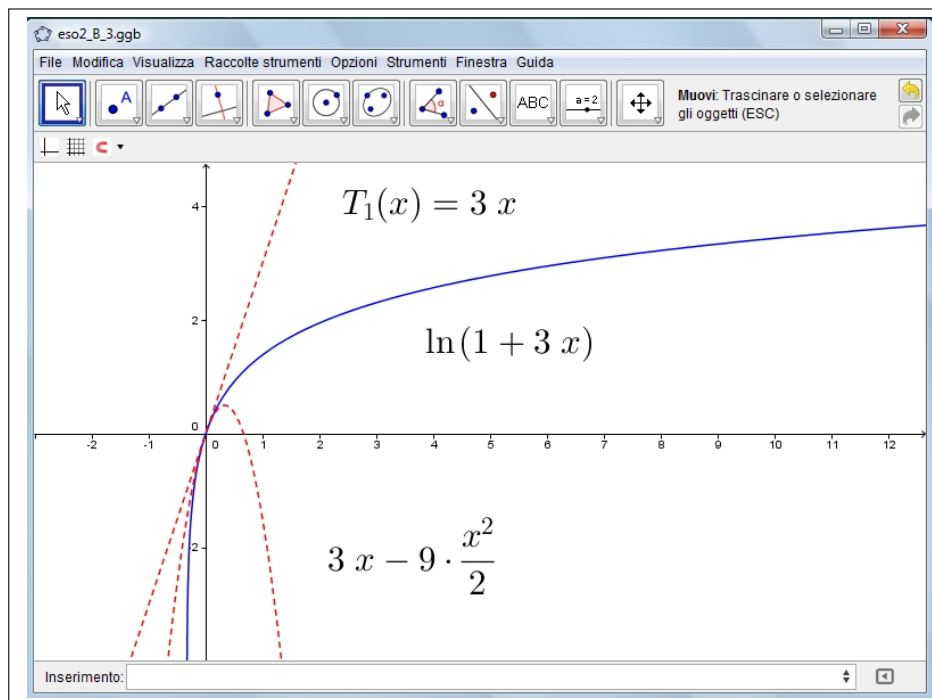
SOLUZIONE:

$$T_1(x) = 3x, \quad T_2(x) = 3x - \frac{9}{2}x^2$$

Per provare la disuguaglianza richiesta:

- $\log(1+3x) \leq 3x$ si ricava dal fatto che la $y = 3x$ é tangente al grafico in corrispondenza dell'origine e la funzione $\log(1+3x)$ é concava,
- posto $d(x) = \log(1+3x) - 3x + 9/2 x^2$ é facile riconoscere che $d(0) = 0$ e che per $x \geq 0$ riesce $d'(x) \geq 0$, per cui

$$\forall x \geq 0 : 0 = d(0) \leq d(x) \quad \rightarrow \quad T_2(x) \leq \log(1+3x)$$

FIGURA 2. $f(x) = \log(1 + 3x)$

2.4. Esercizio.

Assegnata la funzione

$$f(x) = 9e^x + e^{-x} \quad x \in \mathbb{R}$$

- determinare l'immagine $f(\mathbb{R})$ di f ,
- determinare per quali $k \in \mathbb{R}$ l'equazione $f(x) = k$ non ha soluzioni, ha una soluzione, ha due soluzioni.

SOLUZIONE:

L'immagine di f é un intervallo determinato dall'*inf* e dal *sup* di f :

$$\lim_{x \rightarrow \pm\infty} f(x) = +\infty \quad \rightarrow \quad \sup_{x \in \mathbb{R}} f(x) = +\infty$$

Per determinare il minimo

$$f'(x) = 9e^x - e^{-x} : f'(x) = 0 \quad \rightarrow \quad e^{2x} = 1/9 \quad \rightarrow \quad e^x = 1/3 \quad \rightarrow \quad x = -\log(3)$$

Ne segue

$$\text{minimo} = f(-\log(3)) = 6$$

L'immagine di f é pertanto l'intervallo $[6, +\infty)$.

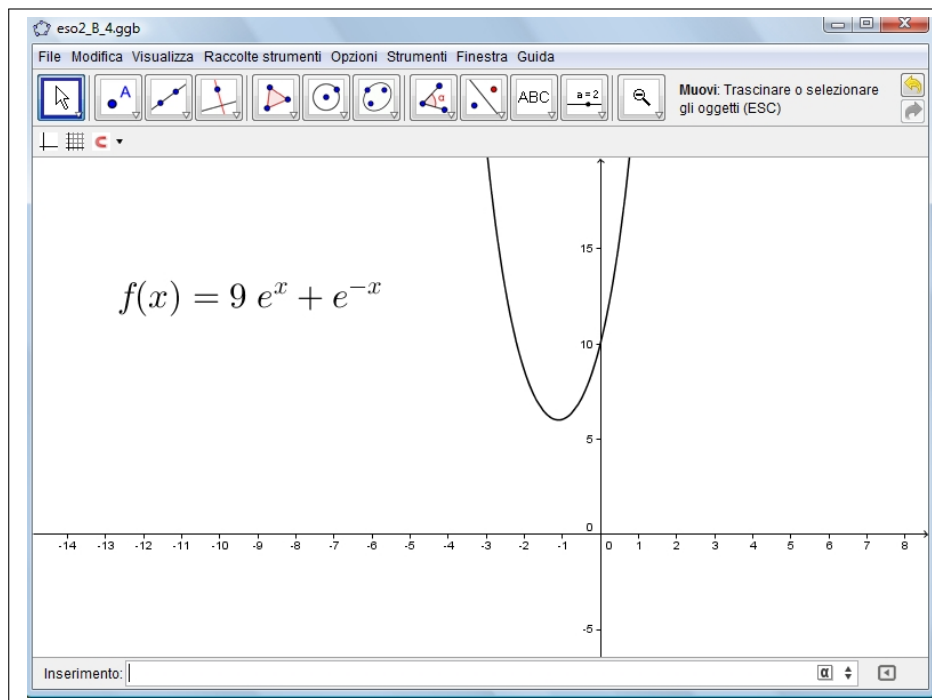


FIGURA 3. $f(x) = 9e^x + e^{-x} \quad x \in \mathbb{R}$

Tenuto conto che

$$\begin{cases} x < -\log(3) & \rightarrow & f'(x) < 0 & \rightarrow & f(x) \searrow \\ x > -\log(3) & \rightarrow & f'(x) > 0 & \rightarrow & f(x) \nearrow \end{cases}$$

Pertanto l'equazione $f(x) = k$:

- non ha soluzioni se $k < 6$
- ha una sola soluzione se $k = 6$
- ha due soluzioni se $k > 6$.