

# Soluzione esercizi

**25 novembre 2011****7.1. Esercizio.**

Dire quali delle seguenti funzioni verificano le ipotesi del teorema di Weierstrass e quali ammettono massimi e/o minimi negli intervalli indicati:

$$f(x) = [x^2], \quad x \in [0, 2]$$

$$g(x) = \sin\left(\frac{1}{x}\right) \quad x \in \left(0, \frac{1}{\pi}\right)$$

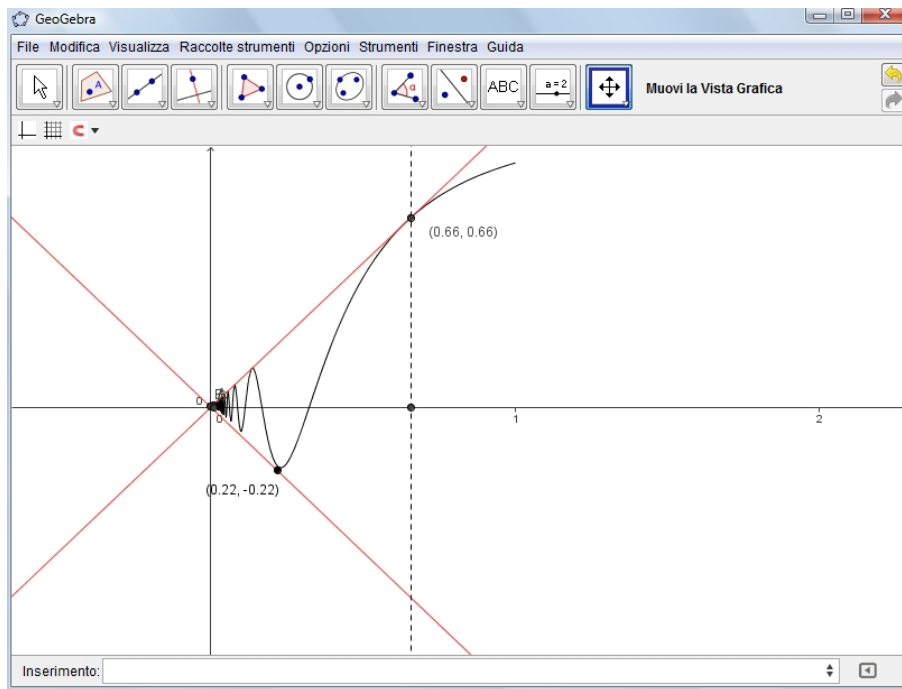
$$h(x) = \arcsin(x) \quad x \in [-1, 1]$$

$$k(x) = \begin{cases} x \sin\left(\frac{1}{x}\right) & 0 < x < 1 \\ 0 & x = 0 \end{cases}$$

$$v(x) = \frac{1}{1+x^2} \quad x \in \mathbb{R}$$

**SOLUZIONE:**

- $f(x) = [x^2]$ ,  $x \in [0, 2]$ : NO, funzione non continua in 1 e 2, minimo =  $f(0) = 0$ , massimo =  $f(2) = 2$ ,
- $g(x) = \sin\left(\frac{1}{x}\right)$   $x \in \left(0, \frac{1}{\pi}\right)$ : NO, funzione continua in intervallo non chiuso, minimo =  $g(\pi/2 + 2\pi) = 1$ , massimo =  $g(3\pi/2 + 2\pi) = -1$ ,
- $h(x) = \arcsin(x)$   $x \in [-1, 1]$ : SI, funzione continua in intervallo chiuso e limitato, minimo =  $h(-1) = -\pi/2$ , massimo =  $h(1) = \pi/2$
- $k(x) = \begin{cases} x \sin\left(\frac{1}{x}\right) & 0 < x < 1 \\ 0 & x = 0 \end{cases}$  :NO, funzione continua ma in intervallo non chiuso, minimo  $\approx 0.22$ , massimo  $\approx 0.66$ ,

FIGURA 1.  $k(x)$ ,  $x \in [0, 1)$ 

- $v(x) = \frac{1}{1+x^2}$   $x \in \mathbb{R}$ : NO, funzione continua ma in intervallo non limitato, massimo =  $v(0) = 1$ , minimo non esiste,  $\inf v = 0$ .

**7.2. Esercizio.** Calcolare le derivate delle seguenti funzioni scrivendo il rapporto incrementale e calcolandone il limite

$$\frac{1}{\cos x} \quad \text{in } x_0 = 0; \quad x \sin x \quad \text{in } x_0 = \frac{\pi}{2}; \quad \exp(x^2) \quad \forall x_0 \in \mathbb{R}.$$

**SOLUZIONE:**

- $$\lim_{h \rightarrow 0} \frac{\frac{1}{\cos(0+h)} - \frac{1}{\cos(0)}}{h} = \lim_{h \rightarrow 0} \frac{\frac{1}{\cos(h)} - 1}{h} = \lim_{h \rightarrow 0} \frac{1 - \cos(h)}{h} \frac{1}{\cos(h)} = 0$$

- $$\lim_{h \rightarrow 0} \frac{(\pi/2 + h) \sin(\pi/2 + h) - \pi/2 \sin(\pi/2)}{h} = \lim_{h \rightarrow 0} \frac{(\pi/2 + h) \cos(h) - \pi/2}{h} =$$

$$= \lim_{h \rightarrow 0} \left\{ \frac{\pi \cos(h) - 1}{2h} + \cos(h) \right\} = 1$$

•

$$\begin{aligned} \lim_{h \rightarrow 0} \frac{e^{(x_0+h)^2} - e^{x_0^2}}{h} &= e^{x_0^2} \lim_{h \rightarrow 0} \frac{e^{2hx_0+h^2} - 1}{h} \\ &= e^{x_0^2} \lim_{h \rightarrow 0} \frac{e^{2hx_0+h^2} - 1}{2hx_0+h^2} \frac{2hx_0+h^2}{h} = 2x_0 e^{x_0^2} \end{aligned}$$

avendo tenuto conto del noto

$$\lim_{x \rightarrow 0} \frac{e^x - 1}{x} = 1$$

**7.3. Esercizio.** Sia  $f(x) = x^2 + ax + b$ . Determinare i valori  $a$  e  $b$  in modo che il grafico di  $f(x)$  passi per il punto  $(2, 4)$  e che abbia in tale punto come tangente la retta  $y = 2x$ .

**SOLUZIONE:**

La prima condizione richiede

$$f(2) = 4 \quad \rightarrow \quad 4 + 2a + b = 4$$

la seconda condizione richiede

$$f'(2)(x - 2) + 4 = 2x \quad \rightarrow \quad (4 + a)(x - 2) + 4 = 2x$$

Le due condizioni conducono al sistema

$$\begin{aligned} 2a + b &= 0 \\ a &= -2 \end{aligned} \quad \rightarrow \quad a = -2, b = 4$$

La funzione richiesta é pertanto

$$f(x) = x^2 - 2x + 4$$

**7.4. Esercizio.** Dire se le funzioni

$$x|x|, \quad |x \sin(x)|, \quad e^{-|x|}, \quad x \sin(|x|), \quad \sqrt{x} \sin x$$

sono derivabili per  $x = 0$ .

**SOLUZIONE:**

Le quattro funzioni

$$x|x|, \quad |x \sin(x)|, \quad x \sin(|x|), \quad \sqrt{x} \sin x$$

sono nulle in  $x = 0$ : pertanto per riconoscere se sono derivabili o meno in tale punto basta riconoscere se i quattro rapporti incrementali

$$\frac{x|x|}{x}, \quad \frac{|x \sin(x)|}{x}, \quad \frac{x \sin(|x|)}{x}, \quad \frac{\sqrt{x} \sin x}{x}$$

ovvero semplificando

$$|x|, \quad \pm|\sin(x)|, \quad \sin(|x|), \quad \sqrt{x} \frac{\sin x}{x}$$

hanno limite per  $x \rightarrow 0 \dots$

...cosa che effettivamente accade per tutti e quattro !

Diverso é il caso della  $f(x) = e^{-|x|}$ : in questo caso

$$\lim_{x \rightarrow 0^-} \frac{f(x) - f(0)}{x} = \lim_{x \rightarrow 0^-} \frac{e^x - 1}{x} = 1$$

$$\lim_{x \rightarrow 0^+} \frac{f(x) - f(0)}{x} = \lim_{x \rightarrow 0^+} \frac{e^{-x} - 1}{x} = - \lim_{x \rightarrow 0^+} \frac{e^x - 1}{x} = -1$$

La non uguaglianza del limite da sinistra e di quello da destra implica che  $f(x) = e^{-|x|}$  non é derivabile in  $x_0 = 0$ .

**7.5. Esercizio.** Data la funzione

$$f(x) = \begin{cases} x^\alpha \cos \frac{1}{x} & x \neq 0 \\ 0 & x = 0 \end{cases}$$

stabilire

- per quali  $\alpha \in \mathbb{R}$  la funzione  $f$  è continua in  $x = 0$
- per quali  $\alpha \in \mathbb{R}$  la funzione  $f$  è derivabile in  $x = 0$
- per quali  $\alpha \in \mathbb{R}$  la derivata  $f'$  è continua in  $x = 0$

**SOLUZIONE:**

- La funzione può essere prolungata per continuità su  $x_0 = 0$  se e solo se esiste il limite  $\lim_{x \rightarrow 0} f(x)$ : tenuto conto che il fattore

$$\cos\left(\frac{1}{x}\right)$$

non ha limite per  $x \rightarrow 0$  l'unica possibilità che  $f(x)$  abbia limite sta nel fatto che il fattore  $x^\alpha$  sia infinitesimo per  $x \rightarrow 0$ , cosa che accade se e solo se  $\alpha > 0$ .

In questo caso  $f$  può essere prolungata nell'origine dandole il valore  $f(0) = 0$

- $f(x)$  é derivabile in  $x_0 = 0$  se e solo se esiste

$$\lim_{x \rightarrow 0} \frac{f(x) - f(0)}{x} = \lim_{x \rightarrow 0} \frac{x^\alpha \cos\left(\frac{1}{x}\right)}{x} = \lim_{x \rightarrow 0} x^{\alpha-1} \cos\left(\frac{1}{x}\right)$$

Limite che per la stessa ragione precedente esiste se e solo se  $\alpha - 1 > 0$ .

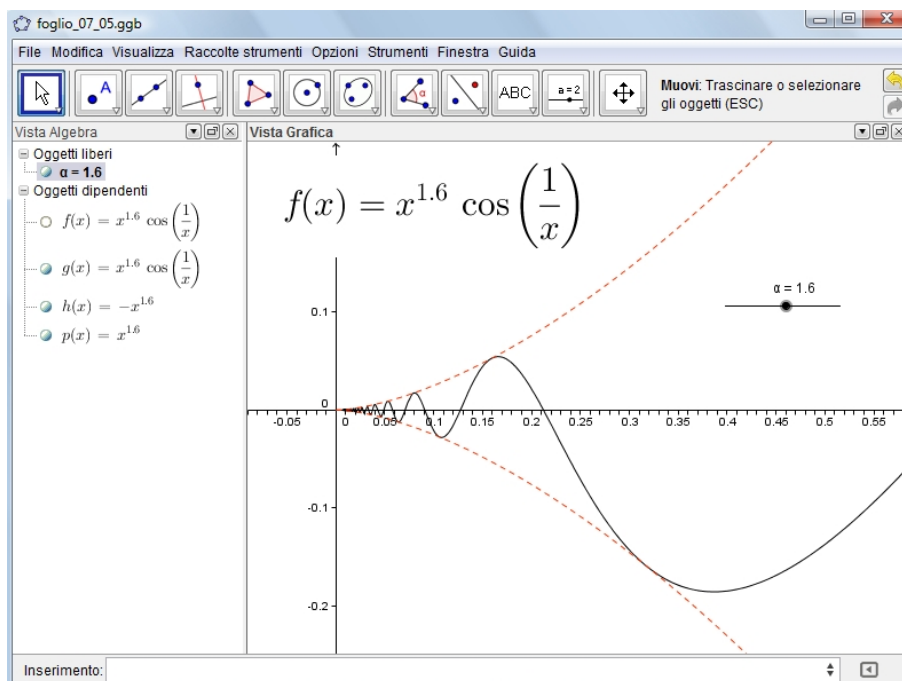


FIGURA 2.  $x^\alpha \cos \frac{1}{x}$

In tale caso,  $\alpha > 1$  si ha quindi  $f'(0) = 0$ .

- Tenuto conto che nei punti  $x \neq 0$  si ha

$$f'(x) = \alpha x^{\alpha-1} \cos\left(\frac{1}{x}\right) + x^{\alpha-2} \sin\left(\frac{1}{x}\right)$$

tale funzione derivata, continua in ogni  $x \neq 0$ , é continua anche in  $x_0 = 0$  se e solo se riesce

$$\lim_{x \rightarrow 0} f'(x) = 0$$

risultato che si ottiene se e solo se  $\alpha - 2 > 0$ .

**7.6. Esercizio.** Utilizzando le regole di derivazione, calcolare le derivate delle seguenti funzioni:

$$\exp(\sqrt{x}); \quad \frac{\sin x}{\cos x} - \frac{\cos x}{\sin x}; \quad \frac{x+1}{x^2+1}; \quad \sin \sqrt{1+x^2};$$

$$x \arctan x; \quad \sin(\cos(x)); \quad \log(1 + \cos^2 x); \quad \frac{\arcsin x}{1-x^2}.$$

**SOLUZIONE:**

$$\begin{aligned} \exp(\sqrt{x}) &\rightarrow \frac{e^{\sqrt{x}}}{2\sqrt{x}} \\ \frac{\sin(x)}{\cos(x)} - \frac{\cos(x)}{\sin(x)} &\rightarrow \frac{\sin(x)^2}{\cos(x)^2} + \frac{\cos(x)^2}{\sin(x)^2} + 2 \\ \frac{x+1}{x^2+1} &\rightarrow \frac{1}{x^2+1} - \frac{2x(x+1)}{(x^2+1)^2} \\ \sin(\sqrt{1+x^2}) &\rightarrow \frac{x \cos(\sqrt{x^2+1})}{\sqrt{x^2+1}} \\ x \arctan(x) &\rightarrow \arctan(x) + \frac{x}{x^2+1} \\ \sin(\cos(x)) &\rightarrow -\sin(x) \cos(\cos(x)) \\ \log(1+\cos^2(x)) &\rightarrow -\frac{2 \cos(x) \sin(x)}{\cos(x)^2+1} \\ \frac{\arcsin(x)}{1-x^2} &\rightarrow \frac{2x \arcsin(x)}{(1-x^2)^2} + \frac{1}{(1-x^2)^{\frac{3}{2}}} \end{aligned}$$

**Osservazione 7.1.** *Le precedenti derivate sono state ottenute su computer servendosi di Wxmaxima, software libero equivalente al blasonato MATHEMATICA: il comando per ottenere la derivata della funzione  $f(x)$  é*

$$\text{diff}(f(x),x); \quad \text{MAIUSC} - \text{ENTER}$$

*Le funzioni goniometriche inverse si chiamano su Wxmaxima (come su molti linguaggi)*

$$\text{asin}, \quad \text{acos}, \quad \text{atan}$$

**7.7. Esercizio.** *Determinare in ciascuno dei due casi seguenti*

$$f(x) = \begin{cases} x^2 & x \leq 1 \\ ax + b & x > 1 \end{cases} \quad g(x) = \begin{cases} \frac{1}{|x|} & |x| > 1 \\ ax^2 + b & |x| \leq 1 \end{cases}$$

*i coefficienti  $a$  e  $b$  in modo che le funzioni  $f(x)$  e  $g(x)$  siano derivabili in  $x = 1$ .*

**SOLUZIONE:**

$f(x)$

L'unico punto in cui  $f(x)$  potrebbe non essere derivabile é  $x_0 = 1$ :

- per essere continua occorre che  $1 = a + b$
- per essere derivabile occorre che

$$\lim_{x \rightarrow 1^-} \frac{x^2 - 1}{x - 1} = \lim_{x \rightarrow 1^+} \frac{ax + b - (a + b)}{x - 1}$$

uguaglianza che implica  $a = 2$ .

Pertanto  $f$  é derivabili in tutto  $\mathbb{R}$  se e solo se  $a = 1, b = 0$ .

$g(x)$

La funzione  $g$  é simmetrica:  $g(-x) = g(x)$ , quindi se é continua in  $x_0$  lo é anche in  $-x_0$ , se é derivabile in  $x_0$  lo é anche in  $-x_0$ , ecc.

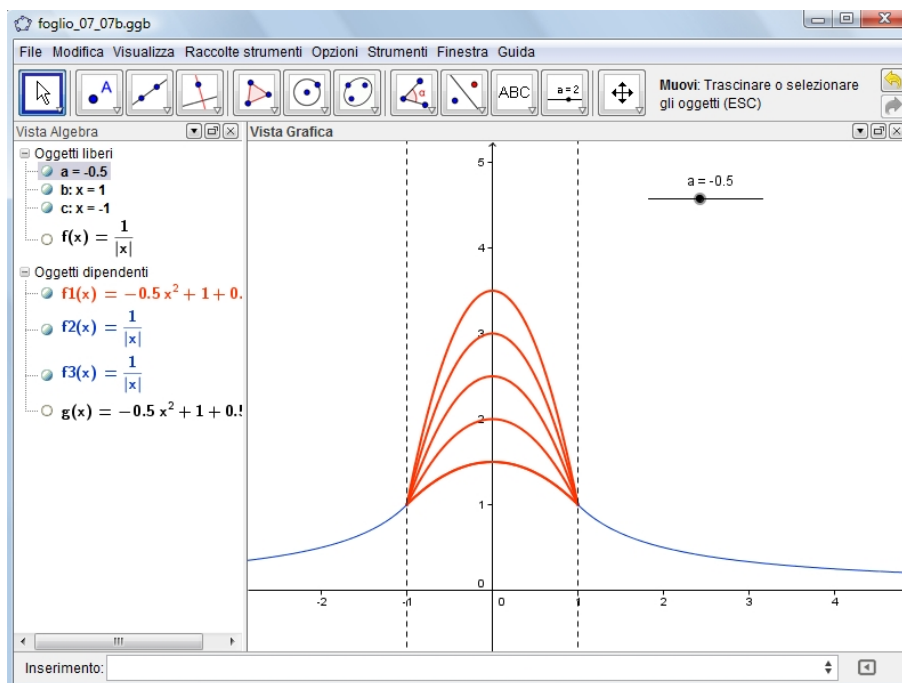


FIGURA 3. Le  $g(x)$  dell'Esercizio 7.7

Gli unici punti in cui  $g(x)$  potrebbe non essere derivabile, vedi figura 3, sono  $x_1 = -1, x_3 = 1$ :

- nel punto  $x_3 = 1$  la funzione riesce continua se e solo se

$$\lim_{x \rightarrow 1^+} \frac{1}{|x|} = \lim_{x \rightarrow 1^-} (ax^2 + b) \Leftrightarrow 1 = a + b$$

- nel punto  $x_3 = 1$  la  $g$  riesce derivabile se e solo se

$$\lim_{h \rightarrow 0^-} \frac{\frac{1}{|1+h|} - 1}{h} = \lim_{h \rightarrow 0^+} \frac{a(1+h)^2 + b - (a+b)}{h} \Leftrightarrow -1 = 2a$$

Ne segue pertanto che:

- se  $a + b = 1$  la funzione  $g$  é continua in  $\mathbb{R}$ ,
- se  $a = -1/2$  la funzione  $g$  é anche derivabile in  $\mathbb{R}$ .

**7.8. Esercizio.** *Sia  $g$  derivabile in  $\mathbb{R}$ .*

- *Dimostrare che  $f(x) = |g(x)|$  è derivabile in tutti i punti  $x$  tali che  $g(x) \neq 0$  e calcolare la derivata in tali punti.*
- *Dimostrare che  $f$  non è derivabile nei punti  $x$  tali che  $g(x) = 0$  e  $g'(x) \neq 0$ .*
- *Dimostrare che la funzione è derivabile nei punti  $x$  tali che  $g(x) = 0$  e  $g'(x) = 0$ .*

**SOLUZIONE:**

- Sia  $x_0$  un punto in cui riesca  $g(x_0) \neq 0$ , allora, essendo  $g$  una funzione continua esiste, per il teorema della permanenza del segno, tutto un intorno di  $x_0$  in cui  $g(x)$  ha lo stesso segno di  $g(x_0)$ : in tale intorno cioè

$$f(x) = |g(x)| = \begin{cases} g(x) & \text{se } g(x_0) > 0 \\ -g(x) & \text{se } g(x_0) < 0 \end{cases}$$

Dal momento che sia  $g(x)$  che  $-g(x)$  sono derivabili tale riesce anche  $f(x) = |g(x)|$ .

- Se in  $x_0$  riesce  $g(x_0) = 0$  il precedente teorema della permanenza del segno non é piú applicabile: inoltre se  $g'(x_0) \neq 0$  la funzione  $g(x)$  cambia segno attraversando  $x_0$ .

Succede quindi che, supponendo ad esempio che sia  $g(x) < 0$  a sinistra di  $x_0$  e sia  $g(x) > 0$  a destra,

$$\frac{f(x) - f(x_0)}{x - x_0} = \begin{cases} \frac{-g(x)}{x} & \text{se } x < x_0 \\ \frac{g(x)}{x} & \text{se } x > x_0 \end{cases}$$



e quindi

$$\lim_{x \rightarrow x_0^-} \frac{f(x) - f(x_0)}{x - x_0} = -g'(x_0), \quad \lim_{x \rightarrow x_0^+} \frac{f(x) - f(x_0)}{x - x_0} = g'(x_0)$$

limite del rapporto incrementale sinistro diverso da quello destro, quindi non derivabilità nel punto  $x_0$ .

È questo il caso che si incontra nel  $|x|$  nell'origine: la funzione  $x$  nulla nell'origine, la sua derivata 1 non nulla.

- Se in un punto  $x_0$  riesce  $g(x_0) = 0$  e  $g'(x_0) = 0$  allora

$$\lim_{x \rightarrow x_0} \frac{g(x)}{x} = 0 \quad \rightarrow \quad \lim_{x \rightarrow x_0} \frac{|g(x)|}{|x|} = 0$$

Ne segue che

$$\lim_{x \rightarrow x_0^+} \frac{|g(x)|}{x} = 0, \quad \lim_{x \rightarrow x_0^-} \frac{|g(x)|}{x} = - \lim_{x \rightarrow x_0} \frac{|g(x)|}{|x|} = 0$$

ovvero sia il limite del rapporto incrementale sinistro che quello destro valgono zero: quindi la funzione  $|g(x)|$  riesce derivabile in  $x_0$  con derivata zero.

**7.9. Esercizio.** Data la funzione  $f(x) = x^3$ , determinare un punto  $\xi \in (0, 2)$  in cui la retta tangente al grafico di  $f$  sia parallela alla corda passante per  $(0, 0)$  e  $(2, 8)$ .

**SOLUZIONE:**

L'equazione della retta, la corda, passante per  $(0, 0)$  e  $(2, 8)$ , estremi del grafico, è la seguente

$$y = \frac{8}{2}x$$

Tenuto presente che le tangenti al grafico di  $f(x) = x^3$  nel punto  $(\xi, f(\xi))$  hanno equazione

$$y = f'(\xi)(x - \xi) + f(\xi) \quad \rightarrow \quad y = 3\xi^2(x - \xi) + \xi^3$$

il parallelismo con la corda precedente si realizza se

$$3\xi^2 = \frac{8}{2} \quad \rightarrow \quad \xi^2 = \frac{4}{3} \quad \rightarrow \quad \xi = \frac{2}{\sqrt{3}} \approx 1,154 \in [0, 2]$$

**7.10. Esercizio.** Posto  $f(x) = \cos x$  e  $g(x) = x^2$

- scrivere la relazione di Cauchy nell'intervallo  $[0, x]$ ;
- dedurre, dalla relazione trovata la disuguaglianza

$$|\cos x - 1| \leq \frac{x^2}{2}.$$

**SOLUZIONE:**

Sia  $x > 0$

$$\begin{aligned} \forall a, b \in (0, x) \exists \eta \in [a, b] : \frac{f(b) - f(a)}{g(b) - g(a)} &= \frac{f'(\eta)}{g'(\eta)} \quad \rightarrow \\ \rightarrow \frac{\cos(b) - \cos(a)}{b^2 - a^2} &= \frac{-\sin(\eta)}{2\eta} \end{aligned}$$

Da cui passando al limite per  $b \rightarrow x$ ,  $a \rightarrow 0$  si ha

$$\frac{\cos(x) - 1}{x^2} = \frac{-\sin(\eta)}{2\eta}$$

Tenuto presente del resto che

$$\forall t \neq 0 : \left| \frac{\sin(t)}{t} \right| \leq 1$$

segue

$$\left| \frac{\cos(x) - 1}{x^2} \right| = \left| \frac{-\sin(\eta)}{2\eta} \right| \leq \frac{1}{2}$$

relazione da cui discende

$$\forall x > 0 : |\cos(x) - 1| \leq \frac{1}{2}x^2$$

Tenuto presente la parità sia di  $\cos(x)$  che di  $x^2$  si riconosce che la disuguaglianza ottenuta vale anche per  $x < 0$  e, naturalmente anche per  $x = 0$ :

$$\forall x \in \mathbb{R} : |\cos(x) - 1| \leq \frac{1}{2}x^2$$